





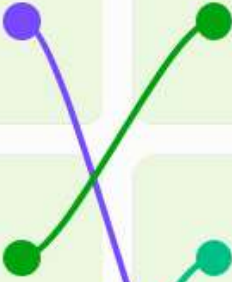

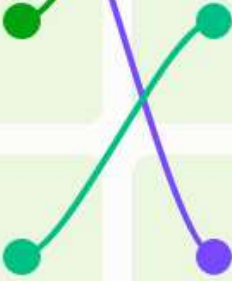





# № 1

На фотографиях изображены основные технологические операции резания древесины.  
Сопоставьте картинки с наименованием операции

|            |   |   |
|------------|---|---|
| Долбление  |    |    |
| Пиление    |    |    |
| Сверление  |  |   |
| Шлифование |  |  |
| Строгание  |  |  |
| Точение    |  |  |

Верно

## № 2

Одежда защищает тело человека и украшает его в соответствии с эстетическими требованиями времени. Рост численности населения Земли, сокращение плодородных земель, развитие новых технологий, изменение культуры производства и быта — всё это обусловило потребность в создании химических волокон с новыми потребительскими свойствами, которых нет у натуральных материалов. На основе сложных химических процессов можно получать вискозные волокна с разнообразными специфическими свойствами: огнестойкие, бактерицидные, кислотостойкие, масло- и водоупорные и т. п. Свойства различных синтетических волокон зависят от состава и структуры молекул, их образующих. Сопоставьте свойства горения нитей (цвет пламени, запах, особенности пепла) с волокнистым составом ткани.



Верно

### № 3

В городе N проживает семья из пяти человек. Папа работает на заводе и получает заработную плату в размере 37500 руб, мамина зарплата составляет 28400 рублей. Сын учится на 1 курсе ВУЗа и получает стипендию 3500 рублей. Дочь учится в 5 классе. Бабушка 75 лет не работает и получает пенсию в размере 22000 рублей.

Расходы семьи в месяц представлены в таблице.

| Вид расходов        | Сумма, руб |
|---------------------|------------|
| Питание             | 25000      |
| Коммунальные услуги | 8500       |
| Одежда              | 13000      |
| Услуги              | 4300       |
| Досуг               | 1500       |
| Мобильная связь     | 1200       |
| Выплата кредита     | 15400      |

**Вопрос 1** . Определите средний доход семьи на одного человека. Ответ внесите в виде целого числа без пробелов. (Например, 12345)

18280

Верно

## № 4

Определите, к какому типу профессий по предмету труда относится профессия "программист"

- человек – человек
- человек – знаковая система
- человек – техника
- человек – художественный образ
- человек – природа

Неверно

## № 5

Назовите прибор, предназначенный для измерения силы электрического тока

Выберите правильный вариант

Амперметр

Омметр

Ваттметр

Вольтметр

Верно

## № 1

Выберите правильное расположение ножниц при раскрое относительно поверхности стола

ножницы расположены под углом 45 градусов к поверхности стола

нижняя часть ножниц касается стола

ножницы расположены в 10 см относительно поверхности стола

Верно

## № 2

Выберите правильный вариант ответа. При раскрое ткань относительно края стола располагается следующим образом:

- кромка материала располагается параллельно краю стола сгибом к раскройщику
- кромка материала располагается перпендикулярно краю стола
- кромка материала располагается параллельно краю стола краями к раскройщику

Верно

### № 3

Для изготовления изделия приобретена вискозная ткань. Какие операции необходимо произвести с материалом перед началом раскроя. Выберите верный вариант ответа:

провести влажно тепловую обработку и дать материалу отвисеться

материал готов к раскрою никаких дополнительных действий с ним производить не нужно

дать материалу отвисеться

Неверно



## № 4

Макетирование это создание формы швейного изделия на манекене. Выберите верное утверждение:

- макетирование, муляжный метод и метод накладки различны по технологии выполнения
- макетирование тождественно муляжному методу и методу накладки
- макетирование и накладка идентичны, а муляжный метод имеет другую технологию работы

Неверно

## № 5

Влажно тепловая обработка изделия это:

- процесс стирки изделия в теплой воде после изготовления
- процесс утюжки изделия или его деталей с применением пара
- процесс обработки изделия паром

Верно

## № 6

Выберите правильный вариант ответа. Во время работы за швейной машиной руки должны располагаться:

- перед и после лапки для помощи продвижения материала
- по бокам от лапки с правой и с левой стороны для предотвращения травмирования рук
- перед лапкой
- после лапки

Верно

## № 7

Основная строчка при соединении деталей швейного изделия на швейной машине называется:

стачивающая

краеобметочная

сметочная

Верно

## № 8

Трикотажное полотно это:

- гибкий материал, в котором пряжа или нити, изогнутые в процессе вязания, имеют сложное пространственное расположение. Основным элементарным звеном структуры трикотажного полотна является петля, состоящая из остова и соединительной протяжки
- полотно высокой плотности из шерстяной пряжи, полученное методом вязания
- вязанное полотно, выполненное ручным способом

Верно

## № 9

Автор маленького черного платья:

Кристиан Диор

Габриэль Шанель

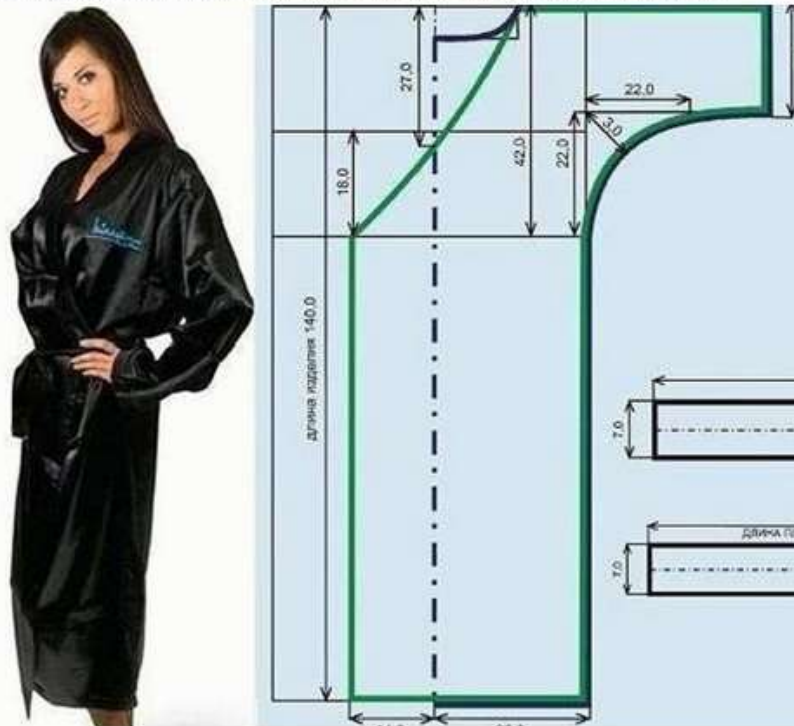
Карл Лагерфельд

Эльза Скиапарелли

Верно

## № 10

Как называется представленный на рисунке покрой изделия:



косоворотка

кимоно

летучая мышь

Верно

## № 11

Какой из представленных на рисунках воротников называется отложной плосколежащий?



Б)

А)

Г)

Д)

В)

Верно



## № 12

Как называется техника исполнения изделия представленного на рисунке:



вязание

ткачество

вышивка

валяние

Неверно

## № 13

Техника соединения различных кусков материала методом сшивания называется:

штопка

пэчворк

фьюзинг

Верно

## № 14

Назовите фасон юбки представленной на рисунке:



юбка солнце

юбка гаде

юбка колокол

юбка карандаш

Верно

## № 15

Как называется данная часть материала:



кромка

долевая

бахрома

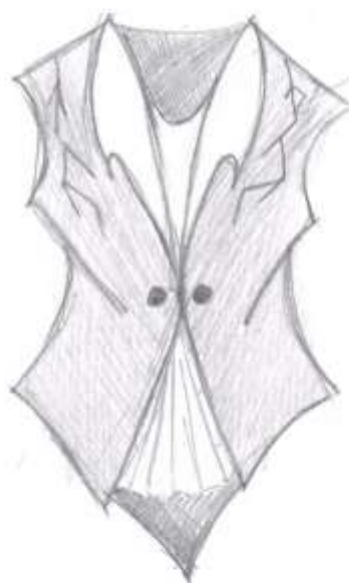
Верно

1 вар.



106

2 вар.



Рисунок



Рисунок

кейс выполнен

3 вар.

