

4811

ВСЕРОССИЙСКАЯ ОЛИМПИАДА  
ШКОЛЬНИКОВ ПО ОБЖ, 2023–2024 уч. г.  
ШКОЛЬНЫЙ ЭТАП. 7–8 КЛАССЫ

**Тестовые задания**

**Определите один правильный ответ.**

За правильный ответ начисляется 2 балла.

1. **Определите смысловое значение изображённого дорожного знака.**

- а) велосипедная дорожка
- б) приоритет велосипеда при движении
- в)  полоса для велосипедистов
- г) пересечение с велосипедной дорожкой или велосипедной дорожкой



2. **Владелец имеет право оставлять свою собаку привязанной возле магазина на**

- а) неограниченное время в наморднике
- б) неограниченное время, на коротком поводке
- в)  ограниченное время, на длинном поводке, но в наморднике
- г) ограниченное время, на коротком поводке

3. **Определите смысловое значение данного знака на водных объектах г. Москвы.**

- а) «В воде проводятся очистительные работы»
- б) «Стой! Опасное дно»
- в) «Входить в воду запрещено!»
- г)  «Опасно! Грязная вода»




4. **Молния опасна тогда, когда вслед за вспышкой следует**

- а) сильный порывистый ветер
- б)  раскат грома
- в) ливневый дождь
- г) период затишья в течение не менее 10 секунд

5. **Резкое кратковременное усиление ветра до 20–30 м/с и выше, сопровождающееся изменением его направления, связанное с конвективными процессами, – это**

- а) вихрь
- б)  смерч
- в) циклон
- г) шквал

6. **Отрыв и падение больших масс горных пород на крутых и обрывистых склонах гор, речных долин и морских побережий, происходящих главным образом за счёт ослабления связности горных пород под влиянием процессов выветривания, деятельности поверхностных и подземных вод, является**
- а) оползнем
  - б) карстовой просадкой
  - в) обвалом
  - г) курумом
7. **Кому в первую очередь необходимо сообщить об обнаружении подозрительного предмета в вагоне метро?**
- а) сотруднику МЧС по телефону
  - б) дежурному на станции по переговорному устройству
  - в) сотруднику полиции по телефону
  - г) машинисту поезда по переговорному устройству
8. **Наибольшей энергетической ценностью обладают**
- а) белки
  - б) углеводы
  - в) жиры
  - г) минеральные вещества
9. **При какой травме и (или) состоянии пострадавшему придают оптимальное положение тела, изображённое на рисунке?**
- а) большая кровопотеря, пострадавший в сознании
  - б) большая кровопотеря, пострадавший без сознания
  - в) травма груди, пострадавший в сознании
  - г) травма головы, пострадавший без сознания
- 
10. **При проведении искусственного дыхания выдох (вдох для пострадавшего) рекомендуется выполнять в течение**
- а) одной секунды
  - б) трёх секунд
  - в) пяти секунд
  - г) десяти секунд

**Определите два правильных ответа.**

За каждый правильный ответ начисляется 2 балла.

1. **Определите смысловое значение и область применения данного знака безопасности на объектах инфраструктуры ОАО «РЖД».**

а) устанавливается на территории платформ железнодорожных станций и вокзалов, у переходов и переездов через железнодорожные пути

б) «Берегись поезда!»

в) устанавливается в местах прохода граждан через железнодорожные пути

г) «Движение скоростных поездов»

д) «Переходить через железнодорожные пути опасно»



2. **Определите смысловое значение и группу данного знака безопасности.**

а) предупреждающий знак

б) «Ядовитые вещества»

в) предписывающий знак

г) «Запрещается брать руками»

д) «Опасно. Едкие и коррозионные вещества»



3. **Какие узлы рекомендуется использовать для закрепления веревок к опоре?**

а) булинь

б) грейпвайн

в) «двойной проводник»

г) прусик

д) «штык»

4. **Выберите параметры природной ЧС локального характера, территория которой не выходит за пределы территории объекта.**

а) количество людей, погибших и (или) получивших ущерб здоровью, составляет не более 50 человек

б) размер ущерба окружающей природной среде и материальных потерь составляет не более 240 тыс. рублей

в) размер материального ущерба составляет не более 12 млн рублей

г) количество людей, погибших и (или) получивших ущерб здоровью, составляет не более 10 человек

д) количество людей, погибших и (или) получивших ущерб здоровью, составляет свыше 50 человек, но не более 500 человек

5. Какие из перечисленных служб входят в перечень экстренных оперативных служб, вызов которых круглосуточно и бесплатно обязан обеспечить оператор связи пользователю услугами связи?
- а) служба реагирования в чрезвычайных ситуациях
  - б) служба «ГосОтлов»
  - в) служба «Антитеррор» 4
  - г) служба экстренного реагирования на землетрясение
  - д) служба вневедомственной охраны МВД РФ
6. К опасным геологическим явлениям и процессам относят
- а) переработку берегов
  - б) просадку в лессовых грунтах 4
  - в) сель
  - г) торфяной пожар
  - д) пыльную бурю
7. Сообщения какой тематики принимает Главное управление по противодействию экстремизму МВД России?
- а) о скулшутинге
  - б) о распространении информации, наносящей вред здоровью и развитию детей
  - в) об актах суицида
  - г) об интернет-мошенничестве 4
  - д) о пропаганде социальной, расовой, национальной или религиозной розни
8. Выберите периоды максимальной работоспособности в течение суток.
- а) 6:00–8:00
  - б) 9:00–12:00 4
  - в) 12:00–15:00
  - г) 16:00–18:00
  - д) 19:00–21:00
9. При каких состояниях оказывается первая помощь?
- а) отсутствие сознания 4
  - б) повышение температуры тела до 39 °С
  - в) повышение артериального давления
  - г) отравление
  - д) аллергическая реакция на коже в виде характерной сыпи (крапивница)
10. Какие мероприятия по поддержанию проходимости дыхательных путей применяются при оказании первой помощи?
- а) придание устойчивого бокового положения 4
  - б) использование S-образного воздуховода
  - в) интубация трахей
  - г) использование медицинской лицевой маски с обратным клапаном
  - д) запрокидывание головы с подъёмом подбородка

### Теоретические задания

#### Задание 1

Расположите предложенные фрагменты в верной последовательности, чтобы в итоге получилось определение.






для перевозки по	1
дорогам людей, грузов или	2
оборудования, установленного на нём	3
устройство, предназначенное	4

5

Запишите термин, определение которому Вы составили.

Укажите, какие сигналы рукой должен подать велосипедист для обозначения:

- поворот направо;
- торможение.

				
поворот направо		торможение		

3

**Задание 2**

Сопоставьте изображения визуальных сигналов, передаваемых потерпевшими бедствие экипажам поисково-спасательных самолётов (вертолётов), с их значениями.

Изображения визуальных сигналов	Значения визуальных сигналов
	«Операции закончены»
	«Требуется медицинская помощь»
	«Требуется карта и компас»
	«Не понял»
	«Всё в порядке»
	«Судно серьёзно повреждено»
	«Требуется топливо и масло»
	«Двигаемся в этом направлении»
	«Нужны медикаменты»
	«Нужны пища и вода»

10

**Задание 3**

Каждому из перечисленных событий подберите соответствующую ему дату.

Наименование профессионального праздника (памятной даты)	Число и месяц, когда это событие празднуется
Всемирный день гражданской обороны	30 апреля
День участников ликвидации последствий радиационных аварий и катастроф и памяти жертв этих аварий и катастроф	27 декабря
День пожарной охраны России	26 апреля
День сотрудника органов внутренних дел Российской Федерации	10 ноября
День создания органов государственного пожарного надзора	1 марта
День Героев Отечества	4 октября
День спасателя Российской Федерации	18 июля
День памяти о россиянах, исполнявших служебный долг за пределами Отечества	15 февраля
День государственной горноспасательной службы	6 июля
День гражданской обороны России	9 декабря

W

#### Задание 4

Вы увидели, как турист упал с обрыва и ударился животом о камень. Удар пришёлся в левое подреберье. Пострадавший жалуется на боли в животе, слабость, головокружение. При осмотре отмечается бледность кожных покровов, частый слабый пульс.

Расставьте мероприятия первой помощи в очередности их выполнения.

3	Выполнить подробный осмотр пострадавшего (выявить болезненность в области живота).
2	Провести обзорный осмотр пострадавшего на наличие наружного кровотечения (убедиться в его отсутствии).
1	Оценить обстановку, убедиться в безопасности оказания первой помощи.
5	Оказать пострадавшему психологическую помощь (разговаривать с пострадавшим до приезда скорой медицинской помощи (СМП)), передать пострадавшего бригаде СМП.
4	Придать пострадавшему оптимальное положение тела, приложить холод к животу (по возможности), вызвать скорую медицинскую помощь.

Максимальная оценка за работу – 100 баллов.